

**TEST CLASA a V-a
ATMOSFERA**

**TURTURICĂ NICOLETA
Școala Gimnazială „Anghel Saligny” FOCSANI**

I. Găsiți varianta de răspuns corectă și încercuiți-l:

20 puncte

1. Anotimpul cu cea mai scăzută temperatură este în imaginea:

Fig. A



Fig. B



Fig. C



Fig. D



2. Gazul din componența atmosferei care întreține viața este:

- a. Dioxidul de carbon b. Azotul c. Heliul d. Oxigenul

3. Prin condensarea vaporilor de apă se formează:

- a. Vânturile b. Norii c. Ninsura d. Stratul de ozon

4. Prezența celor 4 anotimpuri și a unei temperaturi medii de 8-16°C este specifică zonei:

- a. Calde b. Reci c. Temperate d. Tropicale

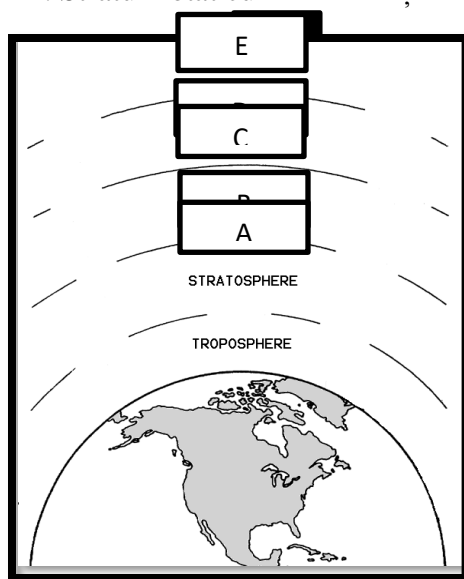
5. Tipul de precipitație solidă care cade în timpul verii se numește:

- a. Grindină b. Ninsura c. Ploaie d. Lapoviță

II. În imaginea de mai jos avem structura atmosferei, răspundeți la cerințele alăturate:

14 puncte

1. Stratul notat cu D se numește



2. Stratul de ozon se găsește în stratul notat cu

3. Cea mai mare cantitate de aer se găsește în stratul notat cu

4. Aurorele polare se produc în stratul marcat cu

5. În stratul marcat cu A temperatura scade cu°C la 1000m

6. Exosfera ultimul strat al atmosferei este marcat cu litera

7. Oamenii trăiesc în stratul atmosferic numit

III. Completați următoarele enunțuri cu răspunsul corect:

8 puncte

1.este forța cu care aerul apasă asupra scoarței terestre.




2. Diferențele de presiune atmosferică duc la formarea

3. Musonii fac parte din categoria de vânturi

4. reprezintă situația elementelor meteo pe o perioadă scurtă de timp și un spațiu restrâns.

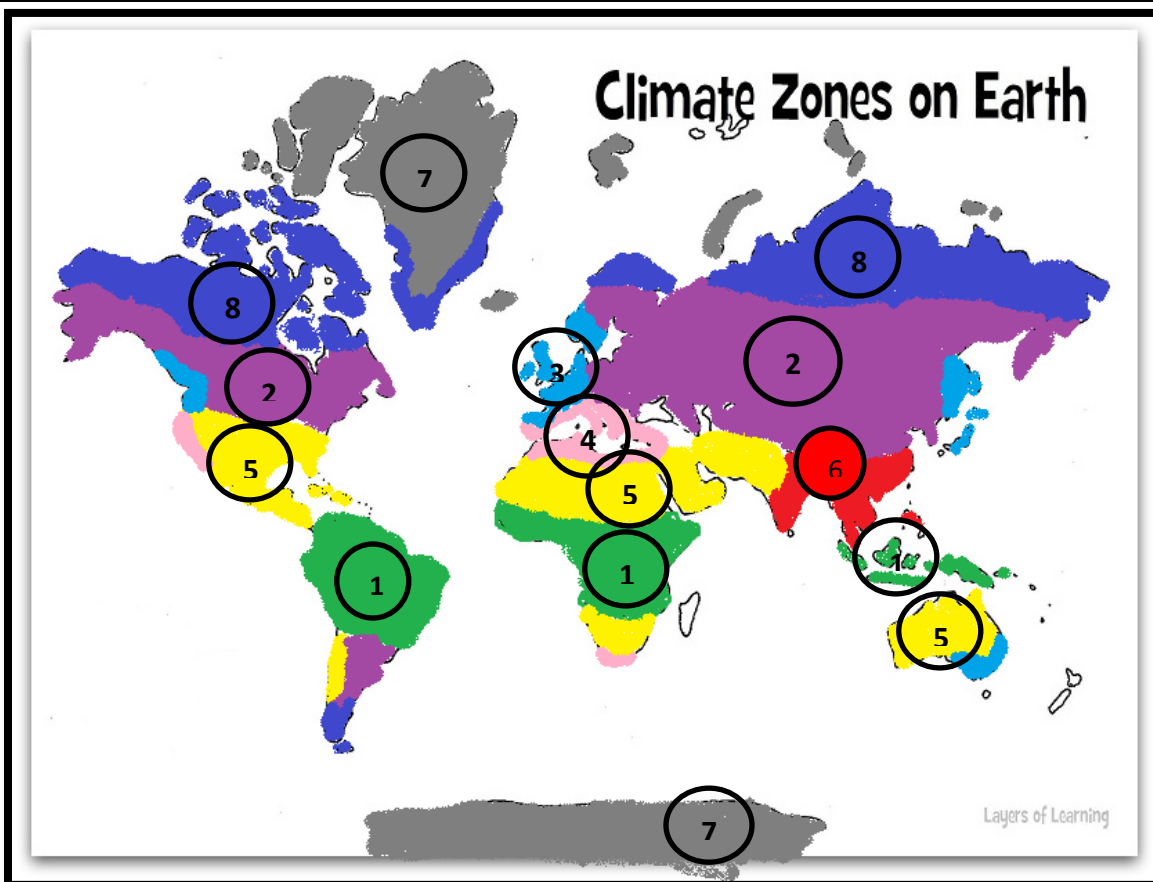
IV. Recunoașteți tipul de precipitații și spuneți anotimpul în care se produce:

8 puncte



V. Identificați tipurile de climă notate cu cifre de la 1 la 8:

8 puncte



VI. Pe baza hărții de mai sus, răspundeți la următoarele întrebări:

12 puncte

- 2 continente unde întâlnim clima subpolară;
- 2 deșerturi tropicale din Africa;
- Continentul unde întâlnim climatul musonic și o caracteristică a acestui tip de climat;
- 2 continente unde întâlnim clima mediteraneană;
- 2 tipuri de climă din Europa;
- Continentul fără așezări permanente și tipul de climă.

VII. Analizând tipurile de climă învățate, precizați:

10 puncte

- O caracteristică a climei ecuatoriale;
- O caracteristică a climei tropical-aride (deșertice).

Din oficiu 20 puncte

Timp de lucru efectiv: 30 minute