

# FRACȚII

## Test de evaluare

Prof. învă. primar-Rotaru Andreea Mădălina

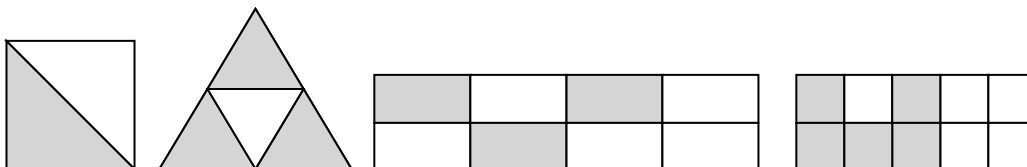
Școala Gimnazială Nr.1, sat Bălteni, jud. Vaslui

**C.S. 2.1. Recunoașterea numerelor naturale în concentrul 0-1 000 000 și a fracțiilor cu numitori mai mici sau egali cu 10, respectiv egali cu 100**

### Nivel minim de realizare:

- Elevu scrie fracțiile corespunzătoare desenelor/enuțurilor date
- Elevul hașurează, respectând condițiile date
- Elevul identifica și scrie fracțiile subunitare, supraunitare și a celor echiunitare

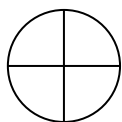
#### 1. Scrie ce fracție reprezintă părțile colorate din fiecare desen:



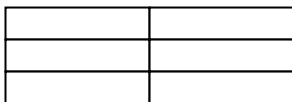
#### 2. Scrieți fracțiile corespunzător enunțurilor:

- trei pătrimi
- un sfert
- opt supra trei

#### 3. Colorează după cum îți indică fracția:



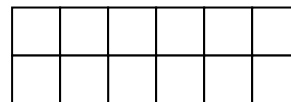
$$\frac{1}{4}$$



$$\frac{4}{6}$$



$$\frac{6}{8}$$



$$\frac{8}{12}$$

4. Se dau fracțiile  $\frac{3}{6}, \frac{3}{3}, \frac{5}{5}, \frac{10}{9}, \frac{7}{3}, \frac{6}{6}, \frac{4}{8}$ . Completează tabelul conform cerinței:

Fracții subunitare	Fracții supraunitare	Fracții echiunitare