

Nume.....

Data.....

### TEST DE EVALUARE

1. Scrieți:

a) cu cifre:

treizeci și șase = \_\_\_\_\_ nouăsprezece = \_\_\_\_\_ o sută = \_\_\_\_\_

b) completează cu numerele care lipsesc:

38, 39,    , 32, 33; 100, , , 97;

c) numerele cuprinse între 49 și 63:

---

2. Efectuează operațiile și încercuiește A (adevarat) si F (fals) pentru egalitățile de mai jos:

40+20=60                    A        F

29- 9=21                    A        F

72-70=2                    A        F

58-24=33                    A        F

3. Efectuați și faceți proba:

4+5=

8-6=

4. Aflați termenul necunoscut:

a-20= 4

c+11=56

98-n=15

a=

c=

n=

a=

c=

n=

5. La diferența numerelor 45 și 13 adunați succesivul numărului 64.


6. Unește cu o săgeată operația cu rezultatul său corect:

50+45=

89

68- 6=

95

27+62=


45

98-53=





88


62

7. În interiorul unui triunghi desenați un cerc, în stânga triunghiului un pătrat, iar în dreapta lui un dreptunghi.



8. Alcătuiți o problemă după următorul exercițiu. Rezolvați-o:


3  + 6  = ?  



R: \_\_\_\_\_

9. În poieniță sunt 54 de fluturi galbeni , iar fluturi roșii  cu 13 mai puțini.

Câți fluturi  și  sunt în poieniță?



R: \_\_\_\_\_

## OBIECTIVE:

- să scrie și să citească corect numerele de la 0 la 100;
- să efectueze corect adunări și scăderi de la 0 la 100 și să le facă proba;
- să completeze casetele cu numerele lipsă;
- să cunoască figurile geometrice și poziția lor, să le deseneze;
- să cunoască semnificația termenilor matematici;
- să afle termenul necunoscut;
- să alcătuiască o problemă simplă;
- să rezolve corect o problemă cu plan de rezolvare.

## DESCRIPTORI DE PERFORMANȚĂ:

	FB	B	S
I1	Rezolvă corect cele 3 subpuncte	Rezolvă corect 2 subpuncte	Rezolvă corect 1 subpunct
I2	Rezolvă corect toate operațiile, încercuind litera corespunzătoare	Rezolvă corect 2-3 operații	Rezolvă corect o singură operație
I3	Rezolvă corect și face proba la 2 exerciții	Rezolvă corect și face proba la 2 exerciții, dar cu câteva greșeli	Rezolvă corect și face proba la 1 exercițiu
I4	Află corect 3 termeni	Află corect 2 termeni	Află corect 1 termen
I5	Găsește succesorul și rezolvă corect cele 2 operații	Găsește succesorul și rezolvă corect o operație	Rezolvă corect o operație
I6	Unește corect toate rezultatele	Unește corect 2-3 rezultate	Unește corect un rezultat
I7	Desenează corect figurile geometrice respectând poziția cerută	Desenează corect figurile geometrice respectând poziția cerută, dar face 1-2 greșeli	Desenează incorect figurile geometrice.
I8	Alcătuieste corect problema, o rezolvă și scrie răspunsul specificând unitatea de măsură	Alcătuieste problema, o rezolvă și scrie răspunsul.	Alcătuieste problema cu unele greșeli.
I9	Formulează corect cele două judecăți, rezolvă corect operațiile și scrie răspunsurile	Formulează corect o judecată și rezolvă corect operația	Rezolvă corect o operație

**MATRICE DE SPECIFICAȚII:**

<b>CONȚINUTURI/OBIECTIVE</b>	<b>CUNOAȘTERE</b>	<b>ÎNȚELEGERE</b>	<b>APLICARE</b>
1. Adunarea numerelor naturale	<b>X</b>		<b>X</b>
2. Terminologia specifică - folosirea limbajului matematic	<b>X</b>		
3. Ordinea efectuării operațiilor	<b>X</b>		<b>X</b>
4. Rezolvare de probleme		<b>X</b>	<b>X</b>