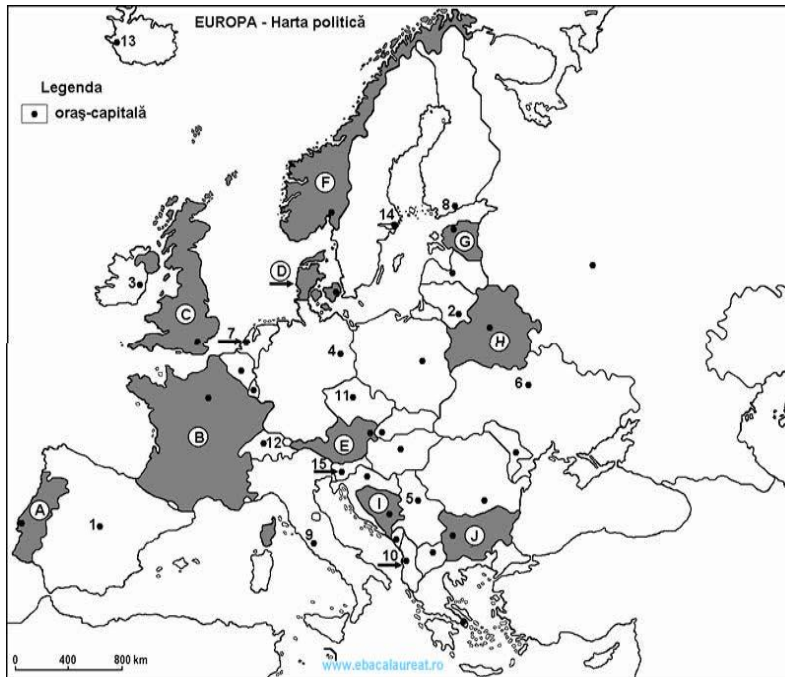


## Test de evaluare la Geografie – elemente de geografie fizică – Europa și România

### SUBIECTUL I (38 puncte)

Analizați cu atenție harta de mai jos.



1. Precizați numele statelor marcate, pe hartă, cu literele:

F: \_\_\_\_\_ I: \_\_\_\_\_

2. Precizați numele orașelor-capitală marcate, pe hartă, cu cifrele/numerele:

1: \_\_\_\_\_ 12: \_\_\_\_\_

**4X2 puncte = 8 puncte**

3. Completați afirmațiile de mai jos cu răspunsul corect.

- Este situat în Peninsula Iberică, statul marcat, pe hartă, cu litera .....
- Capul Nord se găsește pe teritoriul statului marcat, pe hartă, cu litera .....

c. Orașul-capitală marcat, pe hartă, cu cifra 5 este străbătut de fluviul numit .....

**3 X 2 puncte = 6 puncte**

4. Încercuiți litera corespunzătoare răspunsului corect.

1. Vegetația de tundră este specifică statului marcat, pe hartă, cu litera:

- a. A;      b. D;      c. F;      d. J.

2. Are deschidere la Marea Baltică, statul marcat, pe hartă, cu litera:

- a. C;      b. E;      c. J;      d. G.

3. Fluviul Vltava străbate orașul-capitală marcat, pe hartă, cu cifra/numărul:

- a. 11;      b. 7;      c. 6;      d. 10.

4. Reprezintă cea mai nordică capitală europeană, orașul marcat, pe hartă, cu numărul:

- a. 2;      b. 4;      c. 12;      d. 13.

**4 X 2.5 puncte = 10 puncte**

5. Precizați trei deosebiri între clima statului marcat, pe hartă, cu litera C și clima statului marcat, pe hartă, cu litera H.

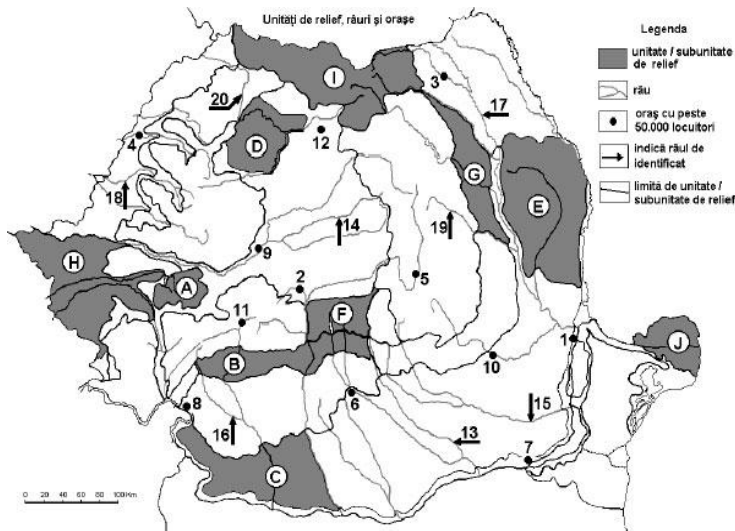
**3 X 3 puncte = 9 puncte**

6. Explicați potențialul hidroenergetic ridicat al râurilor din Peninsula Scandinavă.

**5 puncte**

## SUBIECTUL AL II LEA (40 puncte)

Analizați cu atenție harta de mai jos.



- Precizați numele unităților de relief marcate, pe hartă, cu literele:

C: E:

D:

- Precizați numele râurilor marcate, pe hartă, cu numerele:

15: 20:

13:

**6X2.5 puncte = 15 puncte**

- Completați afirmațiile de mai jos cu răspunsul corect.

a. Relieful vulcanic este specific în

unitatea de relief marcată, pe hartă, cu litera .....

b. Râul Argeș străbate orașul marcat, pe hartă, cu numărul .....

c. Râul care străbate unitatea de relief marcată, pe hartă, cu litera E se numește .....

d. Marmură se exploatează din unitatea de relief marcată, pe hartă, cu litera .....

**4 X 2.5 puncte = 10 puncte**

- Precizați trei deosebiri între relieful unității marcate, pe hartă, cu litera C și relieful unității marcate, pe hartă, cu litera I.

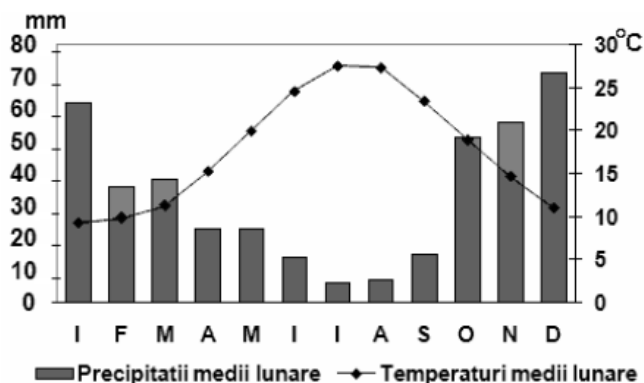
**3 X 3 puncte = 9 puncte**

- România este considerată o țară carpatică. Precizați două avantaje economice care decurg din acest fapt.

**2 X 3 puncte = 6 puncte**

## SUBIECTUL AL III LEA (12 puncte)

Analizați cu atenție climograma de mai jos.



- Precizați valoarea minimă a temperaturii, precum și luna în care se înregistrează.
- Precizați cantitatea maximă de precipitații, precum și luna în care se înregistrează.
- Calculați amplitudinea termică.
- Precizați tipul de climă corespunzător climogramei alăturate.

- Precizați două insule în care este specifică clima aferentă climogramei de mai sus.

**8 X 1.5 puncte = 12 puncte**

**Se acordă 10 puncte din oficiu!**

**Timp de lucru: 45 minute. Succes! 😊**