

## Fișă de lucru

### Unități de măsură – clasa a – III- a

Dan Paula Mihaela

Liceul Silvic Gurghiu, Localitatea Gurghiu/Județul Mureș

1. Completează spațiile libere:

✚ Unitatea de măsură pentru lungime este \_\_\_\_\_.

✚ Multiplii și submultiplii litrului sunt

\_\_\_\_\_


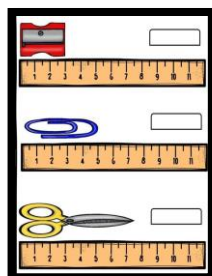
✚ Timpul îl măsurăm cu ajutorul \_\_\_\_\_.

✚ Moneda românească se numește \_\_\_\_\_.

✚ Un an are \_\_\_\_\_ zile, \_\_\_\_\_ luni, \_\_\_\_\_ săptămâni, \_\_\_\_\_ anotimpuri.


2.

Completează în imaginea alăturată cât măsoara fiecare obiect .Calculează diferența dintre ascuțitoare și agrafa de birou, foarfecă și ascuțitoare, foarfecă și agrafa de birou, apoi suma celor trei obiecte.



3.



Unește ceasurile cu ora pe care o indică:



Desenează un ceas și apoi indică ora la care te trezești dimineața:

4.

Indică gramajul pentru fiecare cântar . Calculează cât câțărăsc fructele de pe fiecare cântar. Compară gramajele.



5. O vacă bea într-o zi 2 găleți cu apă. O găleată măsoară 20L. Câte găleți cu apă bea vaca în două săptămâni, dar litri?

---

---

---

6. Mihai are în pușculița sa 100 de lei. Mama îi mai dă încă 50 de lei, iar bunica 25 de lei. Acesta dorește să își cumpere un joc video cu 250 lei. Îi ajung banii lui Mihai? De câți bani mai are nevoie?

---

---

---

---

❖ Desenează cum te simți la sfârșitul acestei fișe de lucru.

