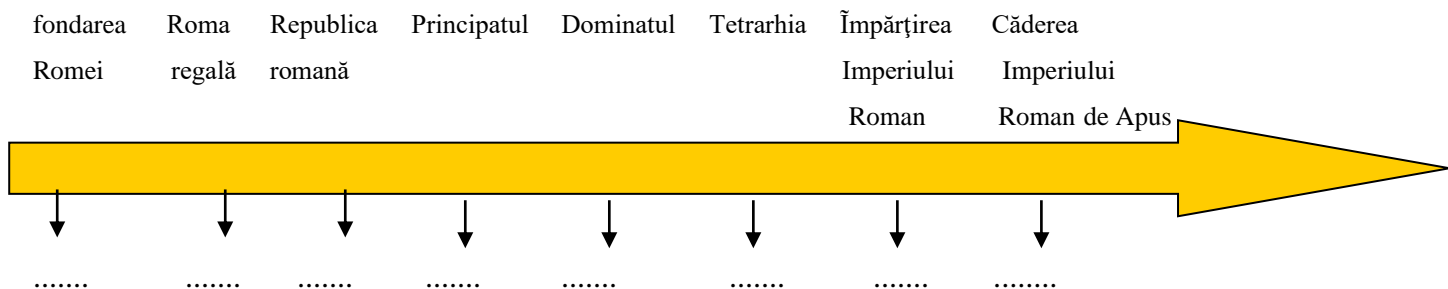


FIȘĂ DE LUCRU - LUMEA ROMANĂ

prof. Mihaela Tudor
Școala Gimnazială „George Emil Palade,, Ploiești

I. Completează axa cronologică cu principalele repere istorice:



II. Asociază fiecare magistratură din coloana **A** cu domeniul de activitate din coloana **B**.

A	B
Consul	aprovizionarea orașului
Cenzor	stabilirea impozitelor
Edil	apărarea drepturilor plebeilor
Pretor	justiție
Chestor	conducerea republicii
Tribun	întreținerea armatei

III. Citiți cu atenție enunțurile de mai jos și stabiliți valoarea de adevăr a acestora (**A** – adevărat, **F** – fals):


1. Romanizarea a reprezentat elementul fundamental al formării popoarelor neolatine.
2. La sfârșitul secolului al IV-lea, împăratul Constantin cel Mare a interzis cultele păgâne, iar creștinismul a devenit religie oficială în statul roman.
3. Marte era divinitatea supremă, zeu al tunetului și fulgerului, protector al Romei și stăpânul Universului.
4. Legiunile romane erau formate din cetățeni romani.
5. Cel mai mare amfiteatru roman, Coloseumul, a fost construit în secolul I d.H.
6. În familia romană, mama era considerată cea mai importantă persoană.
7. Prăbușirea Imperiului Roman de Apus în anul 476 este considerată sfârșitul lumii antice în Europa Occidentală.

IV. Identifică în imaginea prezentată principalele piese care formau echipamentul de luptă al unui soldat roman, alegând termenii corespunzători din lista dată.

Listă de termeni: lorica, gladius, cingulum, tunica, coolus, scutum, pilum, caligae



V. Completând aritmograful de mai jos, vei putea afla o caracteristică a religiei romanilor.



- B**
1. Zeul mărilor la romani
 2. Templul tuturor zeilor la romani
 3. Zeul meșteșugurilor la romani
 4. Zeul luminii la romani
 5. Zeul agriculturii la romani
 6. Zeul comerțului la romani
 7. Zeița înțelepciunii la romani
 8. Zeița frumuseții la romani
 9. Zeul războiului la romani
 10. Zeul artelor la romani

VI. Citește cu atenție enunțurile următoare și completează spațiile libere selectând cuvintele potrivite din tabelul dat:

oratorie	Octavian	Senat	Italia	legiune
republica	Traian	Romulus	apeduct	for
romanizare	Eneida	Colosseum	terme	castru

1. Roma este un oraș în
2. Artă de a ține discursuri publice se numește
3. Procesul de preluare a elementelor culturii și civilizației romane de către popoarele cucerite poartă denumirea de
4. Tabăra militară romană se numea
5. Cel mai mare amfiteatru roman dedicat luptelor de gladiatori a fost
6. Primul împărat roman este considerat
7. Cea mai importantă instituție a Romei în perioada republicii a fost
8. Împăratul roman care a cucerit Dacia a fost
9. Operă literară considerată epopeea istoriei romanilor, scrisă de poetul Virgiliu.....
10. Trupele armate formate numai din cetățeni romani se numeau
11. În anul 509 î.H. a fost instaurată
12. Primul rege al Romei a fost
13. Centrul comercial și politic al Romei se numea
14. Băile publice la romani se numeau
15. Construcție din piatră dotată cu rețele de conducte folosită pentru aprovizionarea cu apă a așezării


VII. Identificați realizările arhitecturale romane din imaginile prezentate și notați în spațiul corespunzător ce reprezintă fiecare dintre ele.



.....



.....



.....