

**ADUNAREA ȘI SCĂDEREA NUMERELOR NATURALE
ÎN CONCENTRUL 0- 1 000 000**

*Prof. Tanasaciuc Valentina-Luminița
Școala Gimnazială nr. 22 Galați*

1. **Efectuează**, apoi verifică rezultatul prin **operație inversă**:

$$73\ 432 + 25\ 217 = \underline{\hspace{2cm}}$$

$$554\ 763 - 131\ 696 = \underline{\hspace{2cm}}$$

$$489\ 688 + 496\ 312 = \underline{\hspace{2cm}}$$

$$793\ 310 - 467\ 918 = \underline{\hspace{2cm}}$$

$$696\ 323 + 79\ 727 = \underline{\hspace{2cm}}$$

$$614\ 294 - 57\ 325 = \underline{\hspace{2cm}}$$

2. **Rezolvă**:

a) Află numărul cu 23 500 **mai mare** decât **răsturnatul** numărului 135 504.

b) Află un număr cu 76 421 **mai mic** decât **suma** numerelor 425 324 și 94 676.

c) La **suma** numerelor 324 231 și 145 600 adaugă **vecinul mai mare** al lui 109 205, apoi **mărește** numărul obținut cu **diferența** lor.

3. Află **numărul necunoscut**:

a) $a + 1\ 015 = 14\ 509$

b) $b - 249\ 408 = 8\ 014$



c) $c - 37\,000 - 27\,503 = 4\,102$




4. Într-un depozit de fructe sunt 4 500 kg de portocale și 526 kg de lămâi. Din această cantitate, **s-au vândut** 1 321 kg de portocale și 114 kg de lămâi. Ce cantitate de fructe **a rămas** în depozit? Folosește **planul de rezolvare**.




5. **Suma a două** numere este 898 372, iar **diferența** lor este 99 654. Află numerele.

6. La o fabrică de dulciuri s-u produs în fiecare zi câte un număr diferit de bomboane de ciocolată, bomboane cu fructe, acadele și jeleuri. Producția a fost înregistrată pe zile și pe sortimente.

Atenție la datele din tabel! Completează tabelul folosind operațiile potrivite:

a)

Produse	Luni	Marți	Miercuri	Joi	Vineri
Bomboane de ciocolată 	11 405	7 806	54 125	8098	Luni + Joi
Bomboane cu fructe	Vineri- Marți	4 506	8 239	5 104	12 458

					
Acadele	15 230	cu 1099 mai mult decât ziua precedentă			
					
Jeleuri	4 519	un număr diferit scris cu cifrele ce compun număr de jeleuri produse luni			
					

b) Ce cantitate de jeleuri s-a produs în întreaga săptămână?