

TEST DE EVALUARE INIȚIALĂ
Matematică și explorarea mediului clasa I




Albinița Maia te va însoți în rezolvarea testului.

Prof. învă. primar JUDEA CARMEN – ALINA
Școala Gimnazială nr. 16 „Take Ionescu” Timișoara

1. Poziția obiectelor

- a) Încercuiește rândunica aflată **deasupra** copacului.
- b) Colorează cu galben merele de **sub** copac.
- c) Colorează cu roșu merele **din** copac.



2. Numerele de la 0 la 31







- a) Numără florile din care albinuța va aduna polen. Scrie numerele pe flori.
- b) Colorează cu roșu 3 flori cu numere pare și cu galben 3 flori cu numere impare.





3. Ajută albinuța să numeroteze stupii. Scrie „vecinii” numerelor!



4. Fiecare albinuță se laudă cu numărul de coșuri cu polen cules. Ajut-o să descompună numerele în zeci și unități.

					
17	28	22	30	25	19
<input type="text"/>	<input type="text"/>	<input type="text"/>	<input type="text"/>	<input type="text"/>	<input type="text"/>
<input type="text"/>	<input type="text"/>	<input type="text"/>	<input type="text"/>	<input type="text"/>	<input type="text"/>

5. Află câte puncte are fiecare animal pe piesa de domino prin operația de adunare. Colorează, în fiecare pereche, animalul care are mai multe puncte.

	
--	---





_____ + _____ = _____

_____ + _____ = _____

_____ + _____ = _____

_____ + _____ = _____

6. Rezolvă exercițiile.

			
--	---	--	---

$5 + 2 = \underline{\quad}$

$10 + 5 = \underline{\quad}$

$7 + 8 = \underline{\quad}$

$25 + 2 = \underline{\quad}$

$8 - 3 = \underline{\quad}$

$14 - 4 = \underline{\quad}$

$12 - 3 = \underline{\quad}$

$28 - 5 = \underline{\quad}$


$3 + 6 = \underline{\quad}$

$11 + 3 = \underline{\quad}$

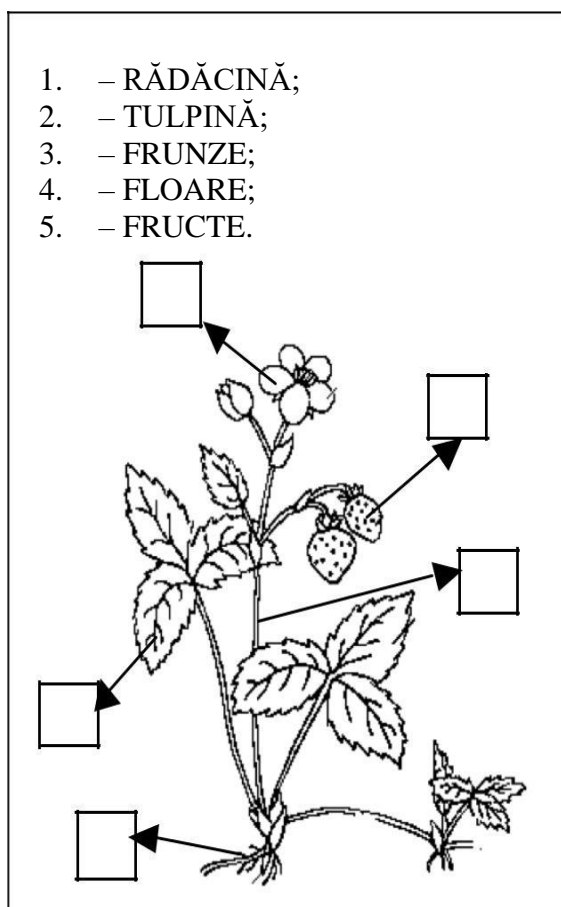
$9 + 4 = \underline{\quad}$

$20 + 5 = \underline{\quad}$

7. Descoperă animalele sălbatice și domestice. Colorează numai animalele sălbatice



8..Numerotează părțile componente ale plantei.



Cum te simți? Colorează!

