

EVALUAREA COMPETENȚELOR SPECIFICE DISCIPLINEI MATEMATICĂ ȘI EXPLORAREA MEDIULUI LA FINALUL CLASEI I

Prof. Luminița Zamfirescu
Școala Gimnazială Rădulești, Ialomița

1. Scrie numerele:

➤ din 1 în 1 de la 48 la 52

--	--	--	--	--	--	--	--	--	--	--	--	--	--	--	--	--	--	--	--

➤ din 2 în 2 de la 20 la 28

--	--	--	--	--	--	--	--	--	--	--	--	--	--	--	--	--	--	--	--

➤ din 10 în 10 de la 90 la 50

--	--	--	--	--	--	--	--	--	--	--	--	--	--	--	--	--	--	--	--

2. Ordonează numerele:

14	28	17
4	21	6

- în ordine crescătoare

--	--	--	--	--

--	--	--	--	--

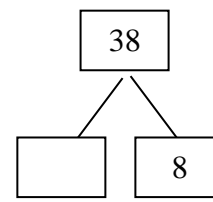
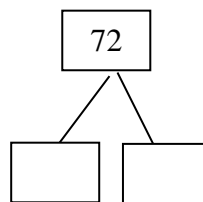
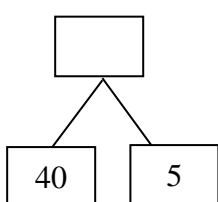
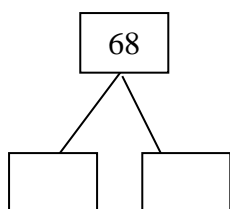
7	18	30
13	25	11

- în ordine descrescătoare

--	--	--	--	--

--	--	--	--	--

3. Descompune și compune următoarele numere:



4. Observă imaginea!



