


FIȘĂ DE LUCRU- GEOMETRIE

CLASA A III-A

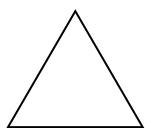

Prof. înv. primar: ROMAN ELENA-BIANCA
Școala Gimnazială Nr.13, Mun. Rm.Vâlcea, Jud. Vâlcea

1. Scrie denumirea fiecărei figuri și a corpurilor geometrice:



.....

.....



.....

.....



2. Rezolvați în echipă problemele:

1. Un triunghi care are toate laturile egale are perimetrul egal cu 27 m. Care este lungimea unei laturi?	2. Un teren dreptunghiular are lățimea egală cu 30 m, iar lungimea cu 75 m mai mare. Aflați perimetrul.
3. Latura unui pătrat este egală cu o treime din 27. Care este suma tuturor laturilor pătratului?	4. Un dreptunghi are lungimea de 20 cm, iar lățimea este jumătate din lățime. Care este perimetrul dreptunghiului?



Pentru cei mai harnici...

1. O rezervație naturală pentru animale sălbatice are forma unui dreptunghi cu lungimea de 880 m, iar lățimea de 2 ori mai mică. Care este perimetrul rezervației?
2. Suma dintre lungimea și lățimea unui dreptunghi este 36 de cm. Lungimea dreptunghiului este de 3 ori mai mare decât lățimea lui. Cât măsoară lungimea dreptunghiului? Dar lățimea lui? Care este perimetrul dreptunghiului?