

Fișă de lucru corpuri geometrice

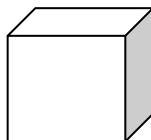
CLASA A II-A

KORSINSZKI ANDRA-MIRELA


ȘCOALA GIMNAZIALĂ NR. 10 SIGHETU MARMAȚIEI


1. Scrie denumirea fiecărui corp geometric:











2. Încercuiește litera A dacă propozițiile sunt adevărate și F dacă sunt false.

Cubul are 6 fețe. **A F**

Cuboidul are 3 vârfuri. **A F**

Sfera seamănă cu o minge. **A F**

Conul are un vârf turtit. **A F**

Cilindrul are bazele în formă de triunghi. **A F**

Cubul are fețele în formă de pătrat. **A F**

Conul se aseamănă cu cornetul de la înghețată. **A F**

4. Completează tabelul cu numărul de corpuri care se găsesc în construcția alăturată.

Colorează-o cu culorile tale preferate.

