

## Să ne amintim din clasa a II-a!

Fișă de lucru

Pașcu Mihaela-Claudia

Școala Gimnazială Nr. 12 "B. P. Hasdeu", Constanța

### 1. Scrie:

- numerele cuprinse între 184 și 177;
- numerele pare de la 532 la 544 ;
- numerele impare de la 943 la 929 ;
- cel mai mic număr natural, impar, cu cifra sutelor 2;
- cel mai mare număr natural cu trei cifre diferite;
- toate numerele naturale de trei cifre diferite care se pot forma cu cifrele 2, 7 și 0;
- toate numerele naturale formate din sute, zeci și unități care îndeplinesc simultan condițiile: cifra sutelor este 8; cifra zecilor și unităților este identică.

### 2. Completează șirurile numerice cu numerele care lipsesc:

- 237, 238 , ....., ....., 241, ..., 243 , ....., 245.
- 578, ....., 582, ....., 586, ....., ....., ....., 594.
- 93, ....., ....., 90, .... , ....., ....., 86.
- 311, 314, 317, ....., ....., ....., ....., 332, ....., 338.
- 900, 800, ....., ....., ....., ....., 300, ....., ....., 0.



### 3. Compară numerele folosind semnele: <, > sau =:

- a)  $34 \begin{array}{|c|} \hline \\ \hline \end{array} 39$       b)  $34 \begin{array}{|c|} \hline \\ \hline \end{array} 34$       c)  $99 \begin{array}{|c|} \hline \\ \hline \end{array} 19$   
    $57 \begin{array}{|c|} \hline \\ \hline \end{array} 77$              $27 \begin{array}{|c|} \hline \\ \hline \end{array} 22$              $32 \begin{array}{|c|} \hline \\ \hline \end{array} 63$

### 4. Se dau numerele : 678, 151, 99, 644, 8.

- Scrie cel mai mic număr impar \_\_\_\_\_ ;
- Scrie cel mai mare număr par \_\_\_\_\_ ;
- Scrie numărul care are zecile mai mici decât sutele \_\_\_\_\_ ;
- Scrie numărul care are cifra unităților egală cu cifra sutelor \_\_\_\_\_ .

### 5. Ordonează numerele:

- crescător 614; 705; 142; 806; 908; 530; 391; 809; 934; 612.
- descrescător 800; 520; 135; 679; 405 ;677; 404; 803; 95; 636.



### 6. Află :

- Cu cât e mai mic 423 decât 750 \_\_\_\_\_ ;
- Numărul cu 246 mai mare decât 304 \_\_\_\_\_ ;
- Suma vecinilor numărului 240 \_\_\_\_\_ ;
- Diferența dintre răsturnatele numerelor 437 și 252 \_\_\_\_\_ .

7. ► Mărește cu 102 diferența numerelor 528 și 219.  
 ► Micșorează cu 124 suma numerelor 234 și 561.  
 ► Din numărul 734 scade diferența numerelor 852 și 649.  
 ► Din produsul numerelor 9 și 8 scade suma numerelor 12 și 39.  
 ► Cu cât e mai mare produsul numerelor 3 și 9 decât câtul numerelor 72 și 9 ?

**8. Calculează, apoi fă proba prin cele două operații învățate :**

$$5 \times 9 = \quad 475 - 395 = \quad 42 : 6 = \quad 363 + 281 =$$

$$4 \times 7 = \quad 701 - 52 = \quad 80 : 8 = \quad 104 + 429 =$$

**9. Completează tabelele:**

|     |   |   |   |   |   |
|-----|---|---|---|---|---|
| a   | 3 | 4 | 7 | 4 | 9 |
| b   | 6 | 5 | 8 | 4 | 6 |
| axb |   |   |   |   |   |

|     |    |    |    |    |    |
|-----|----|----|----|----|----|
| a   | 35 | 18 | 81 | 64 | 45 |
| b   | 5  | 3  | 9  | 8  | 9  |
| a:b |    |    |    |    |    |

**10. Efectuează :**

a)  $607 - 236 + 45 =$   
 $35 : 5 + 236 =$   
 $(643 - 622) : 3 =$

b)  $(819 + 3) - (423 - 25) =$   
 $(312 - 25) + (64 : 8 + 52) =$   
 $(637 + 203) - (42 + 13) =$

**11. Aflați numărul necunoscut :**

$$a + 253 = 461 \quad 850 - b = 327 \quad c - 145 = 608$$

$$6 \times a = 48 \quad 917 - b = 439 \quad (13 + 23) : c = 9$$

**12. Completează:**

Dacă ieri a fost marți, mâine va fi .....


A noua lună a anului este..... și are ..... zile . Prima lună a verii este.....

Trei minute au .....secunde. O oră și jumătate are ..... minute.


O zi are ..... ore. Patru săptămâni au ..... zile.

Un an are ..... luni. Un deceniu are ..... ani.


**13. Desenează limbile ceasului ca să arate orele indicate, apoi scrie în casetă aceeași oră, după –amiază:**



7:15   

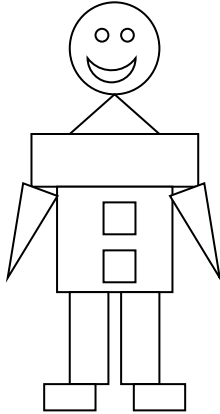


11:30   



1:45

14. Scrie, în tabel, câte forme geometrice sunt din fiecare fel:



| pătrate | dreptunghiuri | triunghiuri | cercuri |
|---------|---------------|-------------|---------|
|         |               |             |         |

15. Știind că :  $a = 143$

$b =$  cu 17 mai mare decât  $a$   $b =$  \_\_\_\_\_

$c =$  diferența dintre 350 și 160  $c =$  \_\_\_\_\_

Calculați:  $a + b + c = ?$  \_\_\_\_\_

$a + b - c = ?$  \_\_\_\_\_

$a + c - b = ?$  \_\_\_\_\_



18. Rezolvă problemele de mai jos:

- A) În vacanța de vară, Matei a stat la bunica din 1 iulie până pe 1 septembrie. Câte zile a stat Matei la bunica?
- B) Mariana are 24 cărți cu poezii și de patru ori mai puține cărți cu povești. Câte cărți are Mariana ?
- C) Dorina cumpără 36 ouă. Folosește pentru prăjitură de 6 ori mai puține. Câte ouă îi mai rămân dacă sparge două ?
- D) Într-un acvariu înoată 156 pești roșii, cu 37 mai puțini pești aurii, iar verzi cât roșii și aurii la un loc. Câți pești înoată în acvariu?
- E) Pentru Ziua Copilului, elevii clasei a II-a A au adus la școală 56 de baloane albastre, de 7 ori mai puține roșii, iar verzi de două ori mai multe decât cele roșii. Câte baloane au adus elevii, în total?
- F) Gabriel citește într-o zi 8 pagini dintr-o carte de povești. În a doua zi citește de 4 ori mai multe pagini, iar în a treia zi a citit cu 8 pagini mai mult decât a doua zi. În câte zile ar fi terminat de citit cartea dacă citea câte 10 pagini pe zi?

Ești mulțumit cum ai lucrat? Colorează fața care ți se potrivește !

