

Fracții-fișă de lucru

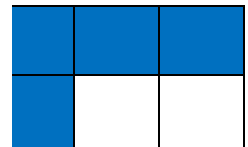

PETRE CRISTINA

Liceul Tehnologic Pătârlagele, Buzău

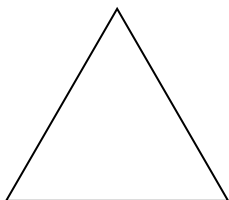
1. Realizează corespondența între cele două coloane:

un sfert	$\frac{1}{2}$
o doime	
o pătrime	$\frac{1}{4}$
un întreg	
o jumătate	$\frac{4}{4}$
patru pătrimi	


2. Notează fracția corespunzătoare fiecărei părți colorate:




3. Împarte întregii următorii corespunzător fracțiilor date și colorează partea indicată:



$\frac{1}{2}$




$\frac{1}{4}$



$\frac{2}{4}$

4. Compară fracțiile și completează cu semnul de relație potrivit (<, =, >):



$$\frac{1}{4} \quad \frac{2}{4} \square$$

$$\frac{2}{4} \quad \frac{1}{2} \square$$

$$\frac{1}{2} \quad \frac{1}{4} \square$$

5. Dintr-o cutie cu bomboane, Ana îi dă fratelui ei un sfert, adică 5 bomboane. Câte bomboane mai are Ana?
6. Jumătate din numărul elevilor din clasă preferă fotbalul. Dacă numărul acestora este 8, câți elevi preferă alt sport?
7. Într-o sală de spectacole sunt 40 de persoane. Jumătate dintre acestea sunt fete, un sfert sunt băieți, iar restul părinți. Câți părinți sunt în sală?