


## TEST DE EVALUARE

Profesor învățământ primar  
Morohoschi Eufrozina  
Școala Gimnazială „Iorgu G. Toma”  
Com. Vama, jud. Suceava

DISCIPLINA: Matematică și explorarea mediului

CLASA: I

1. Află suma numerelor petalelor florilor.



2. În calendarul lunii martie 2016 sunt 5 zile de marți, 5 zile de miercuri și 5 zile de joi.

M	LUNI	MARȚI	MIERCURI	JOI	VINERI	SÂMBĂȚĂ	DUMINICĂ
a		1	2	3	4	5	6
r	7	8	9	10	11	12	13
t	14	15	16	17	18	19	20
i	21	22	23	24	25	26	27
e	28	29	30	31			

• Scrie care dintre aceste zile (marți, miercuri, joi) are ca date trei numere pare și două numere impare.

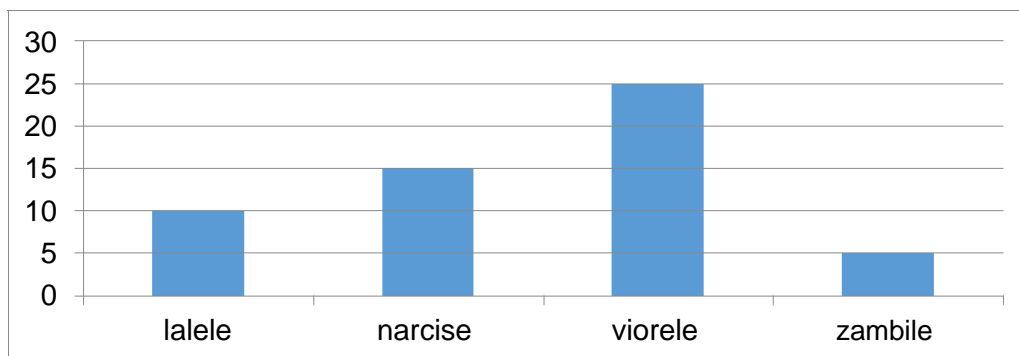
3. Un



se poate măsura cu:

- a) litrul
- b) metrul
- c) ora
- d) kilogramul

4. Tabelul arată numărul florilor care au înflorit în grădina școlii.



Câte lalele și narcise au înflorit în total?

Câte flori au înflorit în total?

Cu cât este mai mare numărul viorelelor, decât al zambilelor?

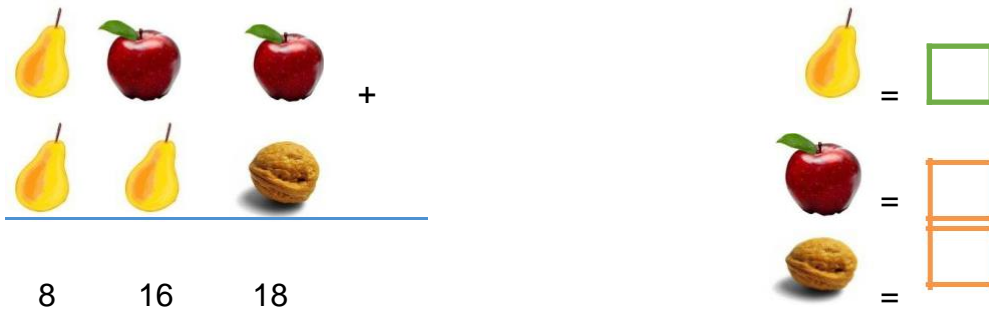
d) Scrie și tu o întrebare al cărei răspuns să necesite folosirea operației de scădere.

.....


Mihai și Andrei au calculat același exercițiu:  $28+16-36-4+19$ , dar au obținut rezultate diferite. Bifează cu X răspunsul corect.



6. Fiecărui fruct îi corespunde o cifră. Care sunt cifrele?



7. Compară vârstele celor doi frați, efectuând operațiile scrise pe tricouri.



8. Compară prețurile obiectelor folosind simbolurile:  $<$ ,  $>$ ,  $=$ .



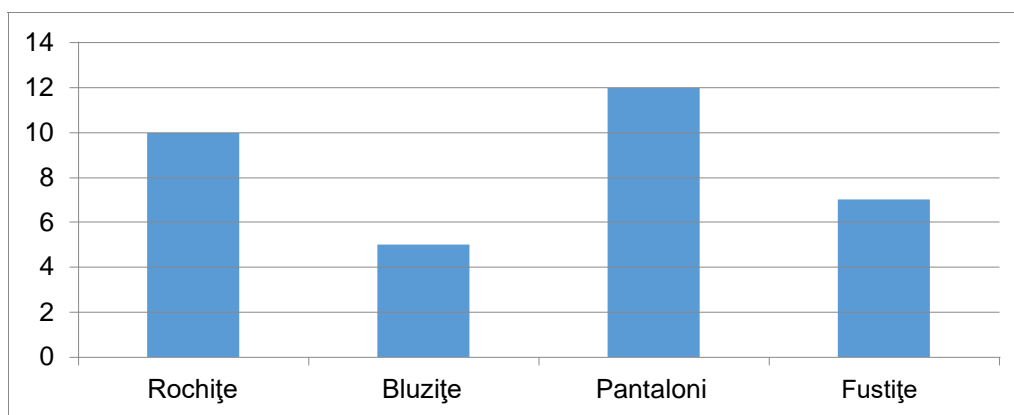
9. Vasilică are în pușculiță 50 lei pentru a cumpăra o jucărie.

 100 lei	 75 lei	 53 lei	 47 lei
----------------------------------------------------------------------------------------------	---------------------------------------------------------------------------------------------	----------------------------------------------------------------------------------------------	-----------------------------------------------------------------------------------------------

Ce jucărie va putea cumpăra? Scrie răspunsul pe rândul următor.

Câți lei îi rămân rest?

10. Desenul reprezintă numărul hăinuțelor din șifonierul Mirunei.



Competează:

a) În șifonier sunt în total  hăinuțe.

b) Numărul de  este jumătate din numărul .

c) Numărul rochițelor este cu  mai mic, decât numărul pantalonilor.

11. Daria adună câte 8 lalele de pe 3 rânduri, câte 9 narcise de pe 2 rânduri și câte 7 frezii de pe 5 rânduri.

Calculează numărul:



.....

.....

.....