

7) Scrie în ordine descrescătoare numerele : **37; 81; 99; 5 ; 17; 26; 43.**

--	--	--	--	--	--	--	--	--	--	--	--	--	--	--	--	--	--	--	--






8) Află termenul necunoscut:

$$a + 6 = 9$$

$$10 + a = 40$$

$$8 + a = 10$$

9) Colorează doar animalele domestice. Realizează corespondențe!



10) Colorează cu albastru lunile de iarnă și cu portocaliu lunile de toamnă:

octombrie	ianuarie	septembrie	decembrie	noiembrie	februarie
-----------	----------	------------	-----------	-----------	-----------

11) Unește desenul cu cuvântul corespunzător din tabel.



miros	văz	pipăit	auz	gust
-------	-----	--------	-----	------

DESCRIPTORI DE PERFORMANȚĂ:

Item	Foarte bine	Bine	Suficient
1.	Scrie corect cele trei șiruri de numere.	Scrie corect două șiruri de numere, iar al treilea cu greșeli.	Scrie corect numai primul șir de numere din cele trei.
2.	Calculează corect 10-12 operații aritmetice.	Calculează corect 8-10 operații aritmetice.	Calculează corect 6-8 operații aritmetice.
3.	Compară corect cele 6 situații.	Compară corect 4-5 situații.	Compară corect 3 situații.
4.	Scrie corect toți vecinii numerelor.	Scrie corect un număr de 14 vecini din totalul de 16.	Scrie corect un număr de 10 vecini din totalul de 16.
5.	Rezolvă corect adunările și efectuează proba lor.	Rezolvă corect adunările, dar are unele greșeli la efectuarea probei prin scădere.	Rezolvă corect adunările dar greșește la efectuarea probei.
6.	Ordonează crescător cele șapte numere.	Ordonează crescător 5 numere din 7 câte sunt de toate.	Ordonează crescător doar 3-4 numere.
7.	Ordonează descrescător toate cele șapte numere.	Ordonează descrescător 5 numere din 7.	Ordonează descrescător 3-4 numere din cele 7.
8.	Află corect termenul necunoscut în toate cele trei situații.	Află termenul necunoscut în două din cele trei situații.	Află termenul necunoscut într-o singură situație.
9.	Colorează corect cele trei animale domestice și corespondența între animal și hrana preferată.	Colorează corect două animale sălbatice și realizează corespondențe.	Colorează corect 1-2 animale dar greșește la corespondențe.
10.	Colorează corect atât lunile de toamnă cât și cele de iarnă.	Colorează corect doar 4 luni din totalul de 6.	Colorează corect doar trei luni din totalul de 6.
11.	Unește corect toate cele 5 situații.	Unește corect 4 situații din 5.	Unește corect 3 situații din 5.

COMPETENȚE SPECIFICE:

1.1 Scrierea, citirea și formarea numerelor până la 100 ;

1.2 Compararea numerelor în centrul 0-100;

1.3 Ordonarea numerelor în centrul 0-100, folosind poziționarea pe axa numerelor, estimări, aproximări;

1.4 Efectuarea de adunări și scăderi, mental și în scris, în centrul 0- 100, recurgând frecvent la numărare;

1.6 Utilizarea unor denumiri și simboluri matematice (termen, total, diferență , < , > , = +, -) în rezolvarea și / sau compunerea de probleme.

3.1 Rezolvarea de probleme prin observarea unor regularități din mediul apropiat.