
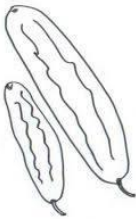

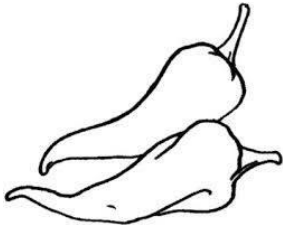


**TEST DE EVALUARE INIȚIALĂ**  
**MATEMATICĂ**  
CLASA a II-a

Smirnov Alexandra Bianca  
Școala Gimnazială „Victor Jinga”, Sighișoara, Mureș

Timp de lucru: 45 minute  
Puncte din oficiu: 40 p  
Punctaj obținut: \_\_\_\_\_

Pentru a pregăti conservele pentru iarnă mama a cumpărat următoarele cantități de legume de la piață:

vinete	castraveți	roșii	ardei
			
27 kg	14 kg	35 kg	12 kg

1. Ce cantitate din fiecare legumă cumpără mama?

Completează spațiul liber.

4p/\_\_\_\_\_

vinete - \_\_\_\_\_

castraveți - \_\_\_\_\_

roșii - \_\_\_\_\_

ardei - \_\_\_\_\_

2. Mama așază în ordine crescătoare în funcție de cantitate legumele cumpărate.

Încercuiește litera corespunzătoare răspunsului corect.

4p/\_\_\_\_\_

- a) castraveți, roșii, ardei, vinete;
- b) roșii, castraveți, ardei, vinete;
- c) adrei, castraveți, vinete, roșii;
- d) vinete, ardei, roșii, castraveți.

3. Câte kilograme de vinete și ardei împreună a cumpărat mama.

Încercuiește litera corespunzătoare răspunsului corect.

4p/ \_\_\_\_\_

- a) 40
- b) 39
- c) 38
- d) 41

4. Roșiile sunt mai multe decât castraveții. Cu cât?

Încercuiește litera corespunzătoare răspunsului corect.

4p/ \_\_\_\_\_

- a) 21
- b) 49
- c) 20
- d) 23

5. Câte kilograme de legume a cumpărat mama în total?

Încercuiește litera corespunzătoare răspunsului corect.

6p/ \_\_\_\_\_

- a) 100
- b) 90
- c) 86
- d) 88

6. Cu cât e mai mare cantitatea de vinete față de cea de ardei? Care operație e potrivită pentru a afla?

Încercuiește litera corespunzătoare răspunsului corect.

6p/ \_\_\_\_\_

- a)  $27+12$
- b)  $27-12$
- c)  $14+12$
- d)  $14-12$

7. Mama dorește să așeze cele 12 kg ardei în două lădițe. Câte kilograme va pune în fiecare lădiță?  
Încercuiește litera corespunzătoare răspunsului corect. 6p/\_\_\_\_

- a) 5 kg
- b) 7 kg
- c) 8 kg
- d) 6 kg

8. Dacă mama a fost la piață miercuri ce zi urmează după aceasta?  
Încercuiește litera corespunzătoare răspunsului corect. 6p/\_\_\_\_

- a) vineri
- b) joi
- c) luni
- d) marți

9. Pentru pregătirea legumelor cumpărate mama are nevoie de trei zile. Dacă începe joi dimineața în ce zi va termina?  
Încercuiește litera corespunzătoare răspunsului corect. 10p/\_\_\_\_

- a) vineri
- b) sâmbătă
- c) duminică
- d) luni

10. Dacă rotunjești fiecare cantitate cumpărată prin adaos sau lipsă (ce se potrivește), ce cantitate totală de legume ar fi cumpărat mama?  
Încercuiește litera corespunzătoare răspunsului corect. 10p/\_\_\_\_

- a) 80
- b) 70
- c) 90
- d) 100