

TEST DE EVALUARE – UNITĂȚI DE MĂSURĂ

1. Cu ce măsurăm? Realizează corespondența!

lungimea valoarea timpul capacitatea

săptămâna		centimetrul		leul			litrul
-----------	--	-------------	--	------	--	--	--------

2. Numerotați crescător vasele după capacitatea lor:



3. Aranjează în ordinea descrescătoare a greutateii lor:
pană , măr , dulap , scaun , pepene .

--	--	--	--	--

4. Completează enunțurile:

- O zi are _____ ore. O săptămână are _____ zile.
- Anul are _____ luni. Luna februarie are _____ sau _____ zile.
- Dacă azi e marți, mâine va fi _____.
- Dacă ieri a fost miercuri, astăzi este _____.

5. Calculează prin adunare repetată câte zile sunt în trei săptămâni.

6. Unește ceasul cu ora indicată.



ora 13 fix

ora 9 și jumătate

ora 3 fix

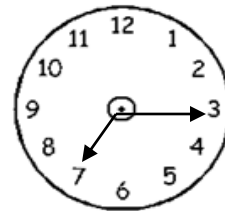
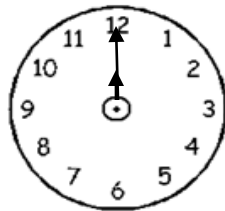
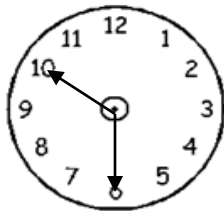
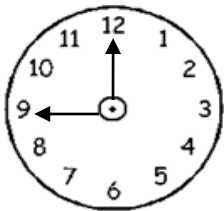
ora 22 și jumătate

ora 14 și jumătate

ora 2 fix



7. Cât e ceasul:



8. Alege luna care nu corespunde anotimpului .

primăvara februarie martie aprilie mai

vara mai iunie iulie august

toamna august septembrie octombrie noiembrie

iarna decembrie ianuarie februarie martie

Maria a plecat cu trenul la bunici la ora 5 și a călătorit 4 ore. La ce oră a ajuns la bunici?

Rezolvare:

Răspuns: _____

10. Găsește în careu cuvinte care denumesc instrumente de măsură: RULETA, PAHAR, STICLA, CRONOMETRU, BUTOI, CEAS, CLEPSIDRA, RIGLA

A	R	U	L	E	T	A	S	D	M	K	T	R	Y	T
B	U	O	P	G	H	J	K	M	L	M	F	H	C	Y
F	Y	P	A	F	Q	W	E	O	N	G	G	G	R	U
C	T	L	H	D	X	Z	J	G	B	L	R	F	O	I
A	R	K	A	S	T	I	C	L	A	A	I	D	N	O
N	B	J	R	S	H	V	G	C	V	B	G	S	O	P
T	U	H	T	A	J	H	B	E	C	N	L	A	M	L
A	T	G	R	E	T	N	J	A	X	M	A	Z	E	M
R	O	F	Q	W	Y	M	T	S	Z	L	R	X	T	N
M	I	D	E	R	T	Y	U	I	O	P	E	C	R	B
J	A	S	C	L	E	P	S	I	D	R	A	V	U	V
K	R	Y	U	I	O	P	A	S	D	F	B	B	O	C

,