

Numerele naturale de la 0 la 100

Prof.înv. primar *Zamfir Nicoleta*
Școala Gimnazială "Duiliu Zamfirescu" Focșani

1. Scrie numerele naturale :

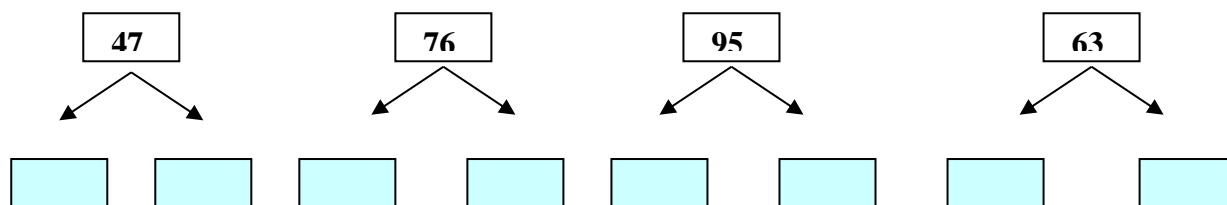
a) de la **59** până la **64** :

..... , , , , , ;

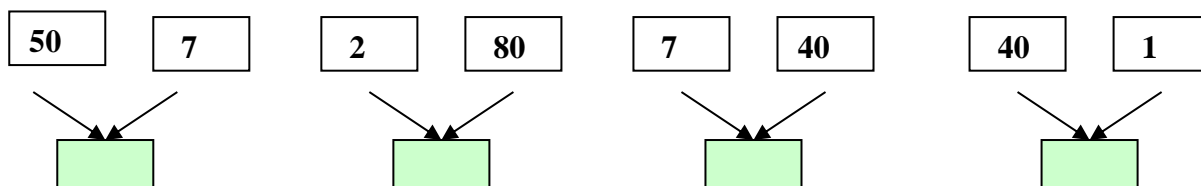
b) de la **83** până la **78** :

..... , , , , , ;

2. a) Descompune numerele :



b) Scrie numerele care se formează din :



3. Se dau numerele: 80 , 46 , 3 , 68 , 10 , 87 , 15 , 7, 94 , 65 , 0 , 72.

a) Ordonează crescător numerele pare:

..... , , , , , , ;

b) Ordonează descrescător numerele impare:

..... , , , , , , ;

4. Compară numerele:

$45 \underline{\quad} 54$

$41 \underline{\quad} 39$

$61 \underline{\quad} 61$

$37 \underline{\quad} 42$

$87 \underline{\quad} 76$

$80 \underline{\quad} 30$

$91 \underline{\quad} 19$

$29 \underline{\quad} 29$

$57 \underline{\quad} 59$

5. Care sunt numerele naturale scrise cu două cifre care se pot scrie cu ajutorul cifrelor 3, 1 și 0 ?

..... , , , , ,

6. Ce numere lipsesc ?

a) 70 , , , 73 , , , 76 ;

b) 92 , , , 89 , , , 86 .

7. Găsește „cheia” și completează șirurile date cu încă trei numere:

a) 10 , 20 , 30 , 40 , , , ;

b) 100 , 95 , 90 , 85 , , , ;

c) 44, 46, 48, , ,

8. Scrie toate numerele naturale formate din zeci și unități care au suma cifrelor egală cu 9.

18 , , , , , , , ,

9. Rotunjește la zeci următoarele numere:

23- ____

92- ____

49- ____

54- ____

71- ____

76- ____

25- ____

88- ____

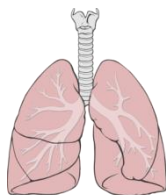
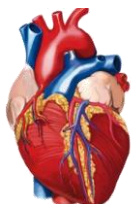
48- ____

66- ____

37- ____

31- ____

10. Realizați corespondența între organele majore ale corpului omenesc și denumirea lor.



CREIER

INIMĂ

RINICHI

PLĂMÂNI

STOMAC

OBIECTIVE OPERAȚIONALE:

- O1** – să citească și să scrie numerele naturale de la 30 până la 100;
- O2** – să numere „înainte” și „înapoi”, în șirul numerelor naturale date;
- O3** – să descompună numerele date în zeci și unități sau să compună numere zeci și unități ;
- O4** – să ordoneze crescător sau descrescător numere date;
- O5** – să scrie numere naturale respectând anumite cerințe;
- O6** – să identifice numerele naturale care lipsesc din șirurile de numere date;
- O7** – să descopere legătura dintre numerele date și să continue șirul, aplicând algoritmul descoperit;

Descriptori de performanță

calificativ item	FOARTE BINE	BINE	SUFICIENT
I1	- completează corect crescător și descrescător cele două șiruri;	- completează corect 10 – 11 numere ;	- completează cu 8 -9 numere cele două șiruri de numere;
I2	- descompune / compune corect toate numerele;	- descompune / compune corect 6-7 numere;	- descompune / compune corect 4-5 numere;
I3	- ordonează corect toate numerele;	- ordonează numerele , cu 2 greșeli;	- ordonează numerele cu 3- 4 greșeli;
I4	- găsește toate numerele care respectă cerința dată;	- găsește corect 4-5 numere, fără alte adăugări de numere care nu respectă cerința;	- găsește măcar trei numere care respectă cerința;
I5	- descoperă toate numerele care lipsesc;	- descoperă 6 -7 numere din cele care lipsesc;	- descoperă 4 -5 numere din cele care lipsesc;
I6	- aplică algoritmul descoperit		

17	- descoperă toate numerele care lipsesc;	- descoperă 6-7 numere din cele care lipsesc;	- descoperă 4-5 numere din cele care lipsesc.
-----------	--	---	---