

Nume :.....

Data.....

Fișe de lucru

Prof.inv.primar, Zoican Liliana Elena

Liceul Tehnologic Iancu Jianu

1.Calculati :

$200 + 700 =$

$800 - 300 =$

$143 + 246 =$

$978 - 254 =$

$470 + 280 =$

$730 - 550 =$

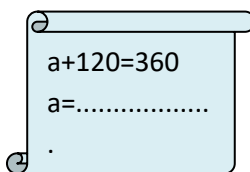
$289 + 378 =$

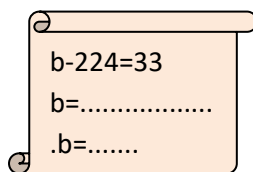
$806 - 369 =$

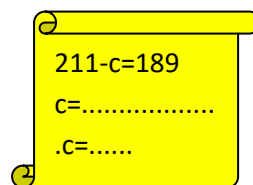
2.Calculează suma și diferența numerelor 343 și 86.

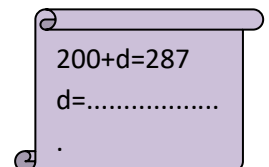
.....
.....

3.Calculați și aflați termenii necunoscuți:


$$a + 120 = 360$$
$$a = \dots\dots\dots$$


$$b - 224 = 33$$
$$b = \dots\dots\dots$$
$$.b = \dots\dots$$


$$211 - c = 189$$
$$c = \dots\dots\dots$$
$$.c = \dots\dots$$


$$200 + d = 287$$
$$d = \dots\dots\dots$$

4.În parc s-au plantat 348 pansule și cu 135 mai puține garoafe.

Câte fire de flori s-au plantat în total?

Rezolvare

.....
.....
.....
.....

Răspuns:.....

