


Numele elevului.....

Data.....



TEST DE EVALUARE

U. I. ORIZONTUL LOCAL

Prof. înv. Primar: LAZAR RODICA

ȘCOALA GIMNAZIALĂ „GHEORGHE LAZĂR”-ZALĂU


1. Completează :

Linia unde ni se pare că cerul atinge pământul se numește sau

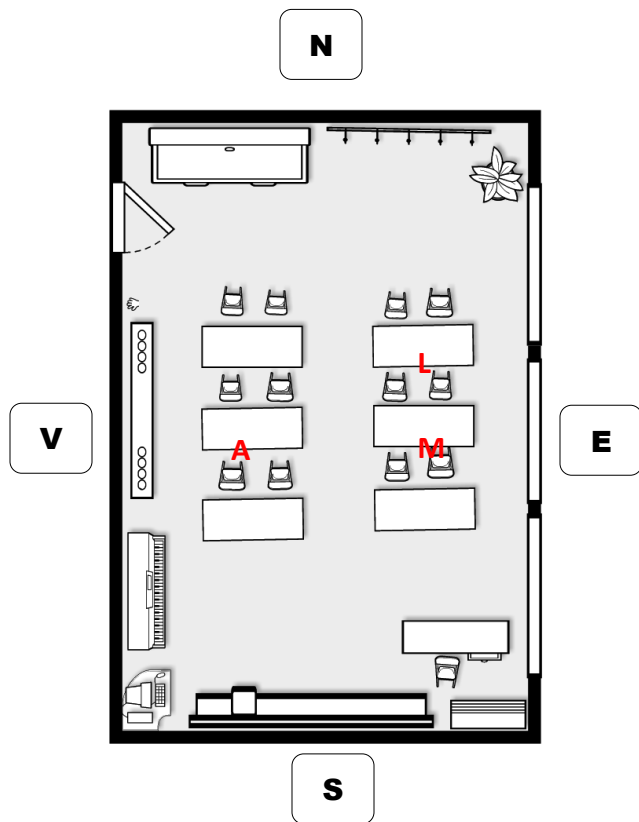
Punctele cardinale sunt:,,și Locul de unde răsare soarele se numeștesau Vestul este locul unde

2. Bifează cu X răspunsurile corecte:

- Partea de cer și de pământ pe care o cuprindem cu privirea, până la linia orizontului, alcătuiește:
 - locul natal ; ➤ orizontul .
- Culoarea convențională pentru munți este:
 - verde ; ➤ maro ; ➤ albastru .
- Estul indică:
 - locul de unde răsare soarele ;
 - locul unde apune soarele ;
 - răsăritul .



3. Privește planul de mai jos, apoi completează spațiile punctate :



Băncile elevilor noștri sunt orientate spre Tabla se află pe peretele dinspre..... . Orga și ușa se află pe peretele dinspre

Banca lui Matei se află la de banca Laurei și la de banca Adrianei.

Lumina soarelui pătrunde prin cele trei ferestre din partea de a clasei.


În spatele clasei, pe peretele dinspre se află dulapul cu materiale didactice și cuierele.

Cu ajutorul calculatorului din putem naviga pe internet.

Nu uităm niciodată să udăm floarea dinclasei!

4. Stabilește valoarea de adevăr a enunțurilor date:

- a) Soarele se rotește în jurul Pământului;
- b) Soarele este sursă de lumină și căldură;
- c) Acțiunile omului nu pot influența mediul înconjurător;
- d) Protejarea mediului este o datorie a noastră, a tuturor.
- e) Soarele răsare la vest și apune la est.
- f) Harta este reprezentarea mult micșorată a unor suprafețe foarte mari.
- g) Pe hartă apele sunt reprezentate cu verde
- h) Busola este un instrument cu ajutorul căruia se stabilește sudul (S).
- i) Nordul (N) se mai numește și miazănoapte.
- j) Mediul geografic nu influențează viața oamenilor.
- k) Culegerea care cuprinde mai multe hărți speciale se numește atlas.



l) 5. Completează enunțurile:

Județul meu se numește și se află în partea a României. Localitatea în care trăiesc eu se numește Reședința de județ este
 Zona de relief în care se află localitatea mea este o zonă de Prin orașul meu curge râul
 Bunicii din partea mamei locuiesc în localitatea.....
 bunicii din partea tatei locuiesc în localitatea.....



6. Răspunde la întrebări

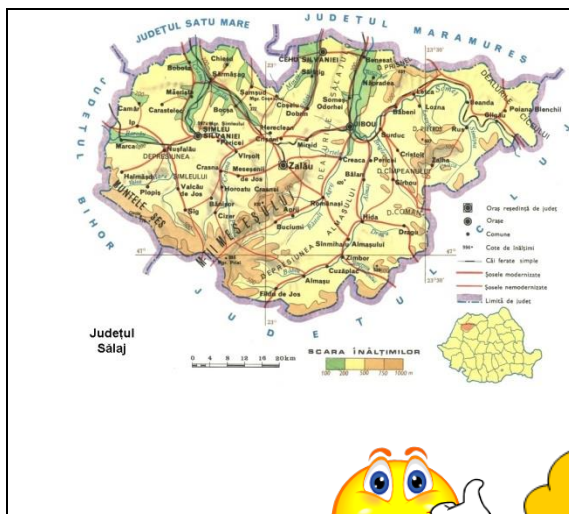
Care sunt principalele forme de relief pe care tu le cunoști?

.....

Care sunt apele stătătoare? Dar cele curgătoare?

.....

7. Privește cu atenție harta, fixează punctele cardinale și scrie județele vecine județului Sălaj:



N-.....
 N.....
 V.....
 S-.....
 SE.....



